



Sehit Hürşit Uzel  
İmam Hatip Ortaokulu

**A**

**KİTAPÇIĞI**

# 5. SINIFLARIN SEVİYE TESPİT SINAVI

## İÇİNDEKİLER

Türkçe  
Matematik  
Din Kültürü ve Ahlak Bilgisi  
Fen ve Teknoloji  
Sosyal Bilgiler  
İngilizce

Adı:.....

Soyadı:.....

İmza:.....

Tarih:.....

1- Aşağıdaki altı çizili sözcüklerden hangisinde ünlü düşmesi vardır?

- A. Pastanın kreması hazır.
- B. Yaşlı kadın oğluna mektup yazıyor.
- C. Kitabımı yine okulda unuttum.
- D. Nilay çoktan işe gitti.

2- Aşağıdaki sözcük çiftlerinden hangisi bir yönüyle diğerlerinden farklıdır?

- A. Merasim – tören
- B. Barış – sulh
- C. Doğa – tabiat
- D. Açık – kapalı

3-“ Kurum” sözcüğü hangi cümlede diğerlerinden farklı anlamdadır?

- A. Bu kurumda dedikoduya yer yok
- B. Kurumumuzda sigara içmek yasaktır.
- C. Kurum olarak çalışanlarımızın arkasındayız.
- D. Baca kurumları üzerimizi kirletti.

4- Aşağıdaki cümlelerin hangisinde anlatım bozukluğu vardır?

- A. Şüphesiz pasta bozulmuş olabilir
- B. Savaş, bütün dünyaya zarar verir.
- C. Van Gölü, en büyük gölümüzdür.
- D. Çocuklar masal dinlemeyi sever.

5-Aşağıdaki atasözlerinden hangisi “ İnsanlar, özellikleri yönünden birbirinden farklıdır.” Anlamına gelmektedir?

- A. Beş parmak bir olmaz
- B. Adamın iyisi alışverişte belli olur.
- C. Bal tutan parmağını yalar.
- D. Can çıkmayınca huy çıkmaz.

6-Aşağıdakilerin cümlelerin hangisinde karşılaştırma yapılmıştır?

- A. Kardeşim sabahları yumurta yer.
- B. Babam çay içmeyi çok sever.
- C. Annem, tostunu herkesten güzel yapar.
- D. Ben kahvaltıda meyve yerim.

7-Aşağıdaki cümlelerin hangisinde sebep sonuç ilişkisi yoktur?

- A. Elleri üşüdüğünden eldiven giydi.
- B. Tüm gün benim için çalıştınız.
- C. Şapkasının uçmasının nedeni hızlı esen rüzgârdır.
- D. Sınıf çok dağınık olduğu için nöbetçi öğretmen bizi uyardı.

(8, 9 ve 10. Soruları Aşağıdaki metne göre cevaplayınız.)

Dalga sörfü, sörf tahtası adı verilen ince uzun bir tahtayla suyun üzerinde kayarak yapılan bir spordur. Bu sporu yapabilmek için denizin dalgalı olması gerekir. Ayrıca bu spor kıydan birkaç yüz metre uzakta yapılır. Bu nedenle sörfçü önce sörf tahtasını, üzerine yüzüstü yatıp ellerini birer kürek gibi kullanarak kıydan uzaklaştırır.

8- Dalga sörfü ne zaman yapılır?

- A. Deniz durgunken
- B. Deniz sıcakken
- C. Deniz dalgalyken
- D. Deniz derinken

9-Dalga sörfü nerede yapılır?

- A. Kıyıda
- B. Her yerde
- C. Kıyıya yakın yerlerde
- D. Kıydan birkaç yüz metre uzakta

**10-Sörfçü, sörf tahtasını kıydan nasıl uzaklaştırır?**

- A. Sörf tahtasının üzerinde ayağını kullanarak
- B. Sörf tahtasının üzerinde, ellerini bir kürek gibi kullanarak
- C. Sörf tahtasının üzerinde hem ellerini hem ayaklarını kullanarak
- D. Sörf tahtasının altında

**11-** Tükettiğimiz kâğıdın yüzde 75'ini geri dönüştürebilseydik bir yılda 35 milyon ağacı kurtarabilirdik. Her ağacı bir tavşan gibi düşünürsek ormanlarda yaşayan 35 milyon tavşan kurtarılmış olurdu. Bu yüzden kâğıtlarımızın kıymetini bilelim.

**Bu metnin ana düşüncesi aşağıdakilerden hangisi olabilir?**

- A. Tavşanları korumalıyız.
- B. Dünyada çok ağaç vardır.
- C. Kâğıtlarımızı boşa kullanmamalıyız.
- D. Her yıl ağaç dikmeliyiz

**12-** Çocuklarda okuma alışkanlığının gelişmesinde aile ve öğretmenler çok önemlidir. Aile ve yakın çevresinde kitap okuyan kişilerin olmadığı çocukların hayatında kitap kendine yer bulamaz. Yani, kitap okuma alışkanlığı edinmesinde aile büyük rol oynar. Elbette okulun ve öğretmenlerin de sorumluluğu büyüktür. Çocuklar kendilerine öğretmenleri de örnek alabilir.

**Bu metin aşağıdaki sorulardan hangisine cevap olarak verilmiş olabilir?**

- A. Günde kaç sayfa kitap okumalıyız?
- B. Kitap okuma alışkanlığı kazanmada aile ve öğretmenler etkili midir?
- C. Ne tür kitaplar okumalıyız?
- D. Niçin kitap okumalıyız?

**13-** Edatlar (ilgeçler), sözcükler arasında; benzerlik, eşitlik, araç, amaç, karşılaştırma gibi anlam ilişkileri kurar.

- 1- Senin oyuncağın gibi bir oyuncak istiyorum
- 2- Bana karşı her zaman güler yüzlüydü.
- 3- Babam gibi güçlü olmak istiyorum
- 4- Gülcan ile Mercan bize geliyor.

**Numaralandırılmış cümlelerden hangilerinde benzerlik bildiren ilgeç vardır?**

- A. 1 ve 3
- B. 1 ve 4
- C. 3 ve 4
- D. 2 ve 3

**14-** Nasreddin Hoca eşekten düşmüş (I)

Çocuklar (II)(III) Hoca eşekten düştü, demişler.

Bunun üzerine Hoca:

(IV) Ben zaten inecektim, demiş.

**Yukarıdaki metinde numaralandırılmış boşluklardan hangilerine konuşma çizgisi (-) getirilmelidir?**

- A- I - II
- B. I – III
- C. III – IV
- D. II-IV

**15-** Aşağıdaki cümlelerin hangisinde “ de” nin yazımıyla ilgili bir yanlışlık yapılmıştır?

- A. Aç tavuk kendini buğday ambarında sanır.
- B. Baca eğride olsa duman doğru çıkar.
- C. Çalıda gül bitmez, cahile söz yetmez.
- D. Demir tavında dövülür.

**Türkçe testi bitti.Diğer Sayfaya geçiniz**

1)

$\frac{5}{10}$  kesri için aşağıdakilerden hangisi doğrudur?

- A) Bir çeyrekte oluşur.
- B) İki yarım oluşur.
- C) İki çeyrekte oluşur.
- D) Bir bütünden oluşur.

2) Okunuşu "kırk üç bin dokuz yüz yirmi dört" olan doğal sayının binler basamağında rakam kaçtır?

- A) 4
- B) 3
- C) 9
- D) 2

3)




Yukarıdaki şekilde bulunan birim küp sayısı aşağıdaki şekillerden hangisinde bulunan birim küp sayısı ile aynıdır?

A)



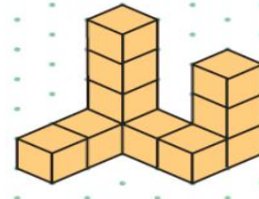
B)



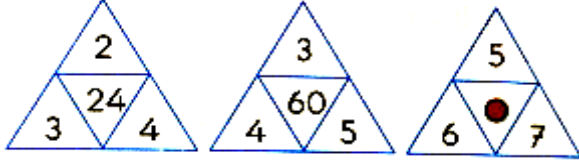
C)



D)



4)



Yukarıdaki şekillerde sayılar aynı kurala göre yerleştirilmiştir.

Buna göre ● kaçtır?

- A. 190 B. 210 C. 230 D. 250

5)

**Bilgi:**  $2 \times 2 \times 2 \times 2$  şeklindeki dört tane ikinin çarpımının  $2^4$  olarak yazılmasına üslü ifade adı verilir. Burada 2'ye taban 4'e üs denir. Üslü ifadelerde taban üs kadar yan yana yazılıp çarpılır ve üslü ifadenin değeri hesaplanır.

**Örnek:**

- $5^2 = 5 \times 5 = 25$
- $3^4 = 3 \times 3 \times 3 \times 3 = 81$
- $1^3 = 1 \times 1 \times 1 = 1$

Yukarıda verilen bilgilere göre  $2^3$  ifadesinin değeri aşağıdakilerden hangisine eşittir?

- A) 2 B) 5 C) 6 D) 8

6)

$2\frac{3}{4}$  ile aşağıdaki kesirlerden hangisini toplarsak 3'ü elde ederiz?

- A)  $\frac{1}{4}$  B)  $\frac{2}{4}$  C)  $\frac{3}{4}$  D)  $\frac{4}{4}$

7)

$\blacksquare < 43\ 561$

Yukarıda verilen karşılaştırmaya göre  $\blacksquare$  yerine yazılabilecek en büyük tek doğal sayı kaçtır?


- A) 43 560 B) 43 559  
C) 43 558 D) 43 557

8)


Aşağıda boyalı kısmı belirten kesirlerin okunuşlarından hangisi yanlıştır?



İkide bir



Üçte Dört



Dörtte yedi



Sekizde yedi

9)

**Elif:** Ben 18 yaşındayım

**Zeynep:** Benim yaşım Elif'in yaşının  $\frac{2}{3}$ 'si kadardır.

**Asaf:** Benim yaşım Elif ve Zeynep'in yaşları toplamı kadardır.

Yukarıdaki üç kişinin yaşları toplamı kaçtır?

- A)50 B)55 C)60 D)65

10)

Bir otobüs durağında 10 dakikada bir sefer yapılmaktadır. İlk sefer 06.30 'da yapıldığına göre **10. sefer saat kaçta yapılacaktır?**

- A) 16.30      B)07.30      C)07.40      D)08.00

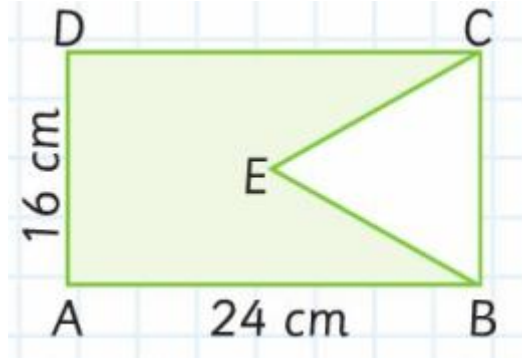
11)Kesir kısmında 86, tam kısmında 89 bulunan ondalık kesir aşağıdakilerden hangisidir?

- A) 86,89                      B)89,86  
C) 88,96                      D)88,99

12)En yakın yüzlüğe yuvarlandığında 600 olan en büyük sayı kaçtır?

- A) 550      B)599      C)649      D)650

13)



Yukarıda verilen şekilde ABCD dikdörtgeninin içine BEC eşkenar üçgeni yerleştirilmiştir.

Buna göre, **boyalı bölgenin çevresi kaç cm'dir?**

- A) 96      B) 80      C) 64      D)48

14)

Rıza Amca torunu Berna doğduğunda Tema Vakfı'na bağış yapmış ve 15 adet fidan Berna adına dikilmiştir. Bunu alışkanlık haline getiren Rıza Amca Berna'nın her doğum gününde aynı miktarda bağış yaptığına göre **Berna 12 yaşına geldiğinde adına kaç tane fidan dikilmiş olur?**

- A)120      B)150      C)180      D)195

15)



Yukarıdaki noktalı kâğıtta çizimi verilen şekille ilgili;

- I. Şeklin içinde 3 geniş açı vardır.  
II. Şeklin içinde 2 dik açı vardır.  
III. Şeklin içinde 1 dar açı vardır.

**İfadelerinden hangileri doğrudur?**

- A) Yalnız II                      B) Yalnız III  
C) I ve II                      D)I,II ve III

**Matematik testi bitti.Diğer Sayfaya geçiniz**

1) Peygamber Efendimiz (S.A.V) bir hadisinde “ Yaptığımız zaman, birbirinizi seveceğiniz bir davranış söyleyeyim mi? “Aranızda selamı yayın.” buyurmuştur. **Bu hadisten yola çıkarak hangisi söylenebilir?**

- A) Birbirimizi sevmek çokta gerekli değildir.
- B) Birbirimize iyi davranmalıyız.
- C) Selamlaşarak aramızdaki sevgiyi arttırmalıyız.
- D) Tanımadıklarımıza selam vermemeliyiz

“Özü de bir, sözü de bir,  
Yüreğinde taşımaz kibir;  
Verdiği sözü namus bilir,  
Aldığı emaneti geri verir.”

2)Şairin dörtlükte tarif ettiği kişinin ahlakı hakkında aşağıdakilerden hangisi **söylenemez?**

- A) Emanete ihanet ettiği
- B) Doğru sözlü olduğu
- C) Sözünde durduğu
- D) Alçak gönüllü olduğu

3)

I-Süt Annesi Halime Hz. Muhammed’i annesine geri vermiştir.

II-Hz. Hatice ile Hz. Muhammed evlenmiştir

III- Medine’den dönerken Hz. Muhammed’in annesi Amine Ebva’da vefat etmiştir.

IV- Dedesinin ölümünden sonra Hz. Muhammed’in bakımını amcası Ebu Talip üstlenmiştir

**Yukarıdaki olayların kronolojik sıralaması hangi seçenekte verilmiştir?**

- A- IV – II – I – III
- B- I – III – IV – II
- C- II – III – I – IV
- D- I – IV – III – II

4)

Peygamber Efendimizin ailenin önemini belirten birçok hadisi vardır.

**Aşağıdakilerden hangisi aile ile ilgili hadislere örnek değildir?**

- A-Hiçbir baba çocuğuna güzel bir terbiyeden daha üstün bir hediyeye veremez
- B-En hayırlınız ailesi için hayırlı olandır
- C-İnsanların en âcizi dua etmeyen, en cimrisi selam vermeyendir
- D-Çocuklarınıza ikram edin ve terbiyelerini güzel yapın

5)“Allah temizdir, temiz olanları sever”  
“Temizlik imanın yarısıdır”

**Yukarıdaki hadislerden hareketle aşağıdaki sonuçlardan hangisine ulaşamayız?**

- A) Allah’ın bizi sevmesi için temiz olmamız gerekir
- B) Allah’a inanan kişi temiz olmak zorundadır
- C) Kalplerimizi de temiz tutmamız gerekir
- D) Temiz olmadan ibadet edebiliriz

6)Kur’an – ı Kerim’in her yirmi sayfadan oluşun bölümüne ne denir?

- A) Cüz
- B) Sure
- C) Hizb
- D) Ayet

7)Harflerin ağızdan ve boğazdan çıkış yerlerine ne ad verilir?

- A)Mahrem
- B)Tevhid
- C)Mahreç
- D)Tecvid

8) Kur’an – ı Kerim’in en uzun ve en kısa sureleri aşağıdakilerden hangisinde sırayla verilmiştir?

- A) Fatiha – Bakara
- B) Bakara – Kevser
- C) Bakara – İhlas
- D) Maide – Nas

9) Aşağıdaki eşleştirmelerden hangisi yanlıştır?

- A. اِنكحَمِيْدٌمَجِيْدٌ - Salli  
B. اَلسَّلَامُعَلَيْكَ - Tahiyyat  
C. اِنكحَمِيْدٌمَجِيْدٌ - Barik  
D. عَلَآبِرَآهِمِ - Subhaneke

10)

اِنَّا اَعْطَيْنَاكَ الْكُوْتُرَ (۱)

..... (۲)

اِنَّ شَانِيْكَ هُوَ الْاَبْتَرُ (۳)

Yukarıda boş bırakılan yer aşağıdakilerden hangisi ile tamamlanabilir?

- A) وَلَمْ يَكُنْ لَهُ كُفُوًا اَحَدٌ  
B) سَيَصْلِيْ نَارًا دَاتٍ لَهَبٍ  
C) فَصَلِّ لِرَبِّكَ وَاَنْحَرْ  
D) مِنَ الْجَنَّةِ وَالنَّاسِ

11- اَمِنْ يَعْْمَلْ kelimesinde hangi tecvit vardır?

- A. ğunnesiz idğam  
B. ihfa  
C. izhar  
D. idğam-ı mealğunne

12) Aşağıdaki şıklardan hangisinde peltek harfler doğru verilmiştir?

- A. ظ ذ ث      B. ظ ذ ت  
C. ذ ث ت      D. ز ظ ث

13) اَوْلِيْكَ kelimesinde hangi tecvid vardır?

- A) muttasıl, munfasıl  
B) meddi tabii, muttasıl  
C) munfasıl, muttasıl  
D) muttasıl, meddi arız

14) سَلَامٌ قَوْلًا kelimesinde hangi tecvit kuralı vardır?

- a) iklab  
b) izhar  
c) ihfa  
d) idğam

15) Aşağıdaki ayet-sure eşleştirmelerinden hangisi doğrudur?

- A. مَالِكِ يَوْمِ الدِّينِ - Felek  
B. اِنَّ شَانِيْكَ هُوَ الْاَبْتَرُ - Nas  
C. وَلَمْ يَكُنْ لَهُ كُفُوًا اَحَدٌ - İhlas  
D. وَمِنْ شَرِّ حَاسِدٍ اِذَا حَسَدَ -Fatiha

16). مِنْ شَرِّ الْوَسْوَاسِ الْخَنَّاسِ ayeti hangi surededir?

- A) Felak  
B) Nas  
C) Fatiha  
D) Tahiyyat



(1) اَلْسَّلَامُ عَلَيْنِكَ

اِيُّهَا النَّبِيُّ وَرَحْمَةُ اللهِ وَبَرَكَاتُهُ

(2) اَلْتَّحِيَّاتُ لِلّٰهِ وَالصَّلَوَاتُ وَ الطَّيِّبَاتُ

(3) اَشْهَدُ اَنْ لَا اِلَهَ اِلَّا اللهُ

وَ اَشْهَدُ اَنَّ مُحَمَّدًا عَبْدُهُ وَرَسُولُهُ

(4) اَلْسَّلَامُ عَلَيْنَا

وَ عَلٰى عِبَادِ اللهِ الصَّالِحِيْنَ

**17. Yukarıda numaralandırılmış olan duanın doğru sıralaması hangi şıkta verilmiştir?**

- A. 1,2,3,4
- B. 2,1,3,4
- C. 3,2,1,4
- D. 2,1, 4,3

(1) وَبِحَمْدِكَ

(2) وَتَبَارَكَ اسْمُكَ

(3) وَتَعَالَى جَدُّكَ

(4) وَلَا إِلَهَ غَيْرُكَ

(5) اَلْسَّلَامُ عَلَيْنِكَ

**18) Yukarıda numaralandırılmış hangi cümle Subhaneke Duasına ait değildir?**

- A. 2
- B. 3
- C. 4
- D. 5

**19. Aşağıdaki eşleştirmelerden hangisi yanlıştır?**

- A. Medd-i tabii= 4 elif uzatılır.
- B. Medd-i tabii= 1 elif uzatılır.
- C. Medd-i muttasıl= 4 elif uzatılır.
- D. Medd-i munfasıl= 4 elif uzatılır.

**20.**

**Hüseyin** Allah'a sadece dualarımızı kabul ettiği zaman şükrederiz.

**Yasin:** Allah'a her zaman şükretmemiz gerekir.

**Ahmet:** Allah'a ibadet ederek şükretmiş oluruz.

**Elif:** Allah'a vermiş olduğu nimetlerden dolayı şükrederiz.

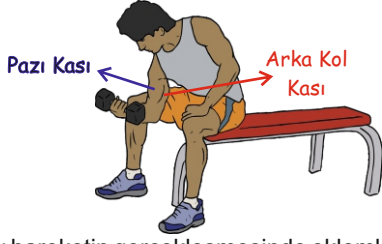
**Yukarıda bazı öğrencilerin Allah'a şükürle ilgili görüşlerine yer verilmiştir. Hangi öğrencinin görüşü doğru olarak kabul edilemez?**

- A. Hüseyin
- B. Yasin
- C. Ahmet
- D. Elif

**Din Kültürü ve Ahlak Bilgisi testi bitti. Diğer Sayfaya geçiniz**

# Fen Bilimleri (Fen ve Teknoloji)

1. Aşağıda ağırlık kaldıran bir kolun hareketi verilmiştir.

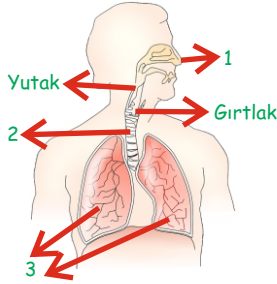


- I. Bu hareketin gerçekleşmesinde eklemler de görev alır.  
II. Bu hareket esnasında pazı kası kasılır.  
III. Bu hareket esnasında arka kol kası gevşer.

**Buna göre bu hareket ile ilgili verilen bilgilerden hangileri doğrudur?**

- A) Yalnız II  
B) I ve II  
C) II ve III  
D) I, II ve III

2. Aşağıdaki şekilde solunum sistemine ait yapı ve organlar sırası ile gösterilmiştir.



**Buna göre 1, 2 ve 3 ile gösterilen yerlerin isimleri nelerdir?**

- |    | 1            | 2            | 3          |
|----|--------------|--------------|------------|
| A) | Akciğerler   | Soluk Borusu | Burun      |
| B) | Burun        | Yemek Borusu | Akciğerler |
| C) | Soluk Borusu | Akciğerler   | Burun      |
| D) | Burun        | Soluk Borusu | Akciğerler |

3. Aşağıdaki etkinlikte verilen bilgilerin doğru ya da yanlış olmasına göre ilerlenmektedir.



**Buna göre hangi öğrenciler birer yanlış yaparak etkinliği tamamlamışlardır?**

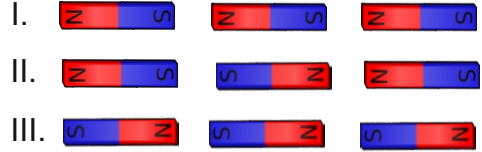
- A) Emin - Kerem  
B) Cihat - Emin  
C) Cihat - Kerem  
D) Süleyman - Emin

4. **Kuvvet ile ilgili;**  
I. Cisimlerin şeklini değiştirebilir.  
II. Cisimleri hareket ettirebilir.  
III. Cisimlerin yönünü değiştirebilir.

**verilen bilgilerden hangileri doğrudur?**

- A) Yalnız II  
B) Yalnız III  
C) I ve II  
D) I, II ve III

5. Aşağıda yan yana sabit tutulan mıknatıs grupları verilmiştir.



**Buna göre mıknatıs grupları serbest bırakıldığında hangileri tamamen birbirleri ile birleşir?**

- A) Yalnız II  
B) I ve II  
C) I ve III  
D) I, II ve III

- 6.



**Görsellerdeki maddeler ile ilgili aşağıda verilenlerden hangisi yanlıştır?**

- A) Buz, katı halde bulunur.  
B) Su ve su buharı aynı halde bulunur.  
C) Hepsi aynı maddenin katı, sıvı ve gaz halleridir.  
D) Su, sıvı halde bulunur.

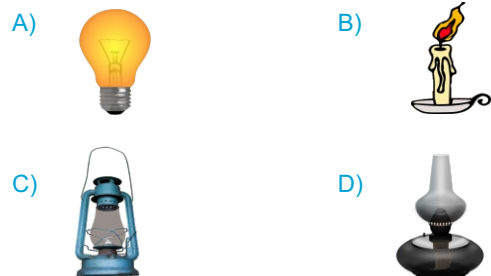
- 7.



**Yukarıdaki dereceli kaptaki ölçülen taş parçasının hacmi kaç mililitredir?**

- A) 50ml  
B) 100ml  
C) 150ml  
D) 200ml

8. **Aşağıdakilerden hangisi günümüzde kullanılan modern aydınlatma araçlarına örnektir?**



9. Aşağıda kütle ve hacim ile ilgili açıklamalar verilmiş ve açıklamalara ait olan kavramlar yönünde ilerlenilmektedir.

Bir cismi meydana getiren madde miktarıdır.	→	Kütle	→	U
	→	Hacim	→	A
Kütlenin birimidir.	→	Gram	→	Z
	→	Litre	→	K
Hacmin birimidir.	→	Kilogram	→	I
	→	Mililitre	→	E
Kütleyi ölçer.	→	Eşit Kollu Terazî	→	L
	→	Dereceli Kap	→	P

Buna göre doğru olarak ilerlendiğinde ulaşılan harfler yan yana yazıldığında aşağıdakilerden hangisi oluşur?

- A) AKIP                                      B) AZEL  
C) UZEL                                      D) UZIP

10. Sude, K ve L maddelerinden oluşan bir karışımı buharlaştırma yöntemi ile ayrıştırıyor.





Buna göre K ve L maddeleri hangi seçenekteki maddeler olabilir?

	<u>K Maddesi</u>	<u>L Maddesi</u>
A)	Su	Alkol
B)	Tuz	Şeker
C)	Su	Tuz
D)	Demir Tozu	Kum

11. İşitme zorluğu çekenlerin kullandığı işitme cihazı ile ilgili verilen bilgilerden hangisi yanlıştır?

- A) Sesin şiddetini azaltıp artırır.  
B) Ses kaydı yapabilen bir araçtır.  
C) Sağlık alanında kullanılmaktadır.  
D) Ses teknolojisi ürünüdür.

12. Aşağıdakilerden hangisini gözle görülemeyecek kadar küçük canlıları gözlemleyebildiğimiz araçtır?

- A)  Mikroskop  
B)  Termometre  
C)  Büyüteç  
D)  Teleskop

13. Aşağıdakilerden hangisi çevre kirliliğinin bir sonucu değildir?

- A) Solunum problemlerinin yaşanması.  
B) Canlıların besin bulmada zorlanması.  
C) Bulaşıcı hastalıkların artması.  
D) Canlı türlerinin artması.



14. Yandaki elektrik devresi elemanı ile ilgili verilen bilgilerden hangisi doğrudur?

- A) Elektrik enerjisi üretir.  
B) Elektrik enerjisini ışık enerjisine dönüştürür.  
C) Elektrikliği iletip kesmeye yarar.  
D) Devrenin elektrik iletimi sağlar.

15. Evlerde kullanılan elektrik düğmeleri ile ilgili aşağıda verilenlerden hangisi yanlıştır?

- A) Açık konumdayken devre çalışır.  
B) Anahtar olarak kullanılır.  
C) Elektrik devresi elemanıdır.  
D) Kapalı konumdayken devre çalışır.

I-21.45 dişlerimi fırçaladım ve yattım

II-17.30 ödevlerimi yaptım.

III-16.00 eve geldim

IV.-18.30 yemek yedim ve oyun oynadım

**1-Yukarıdaki yapılan işlerin gerçekleşme sırası aşağıdakilerden hangisinde doğru verilmiştir?**

- A) IV-I-II-III
- B) III-II-IV-I
- C) IV-III-II-I
- D) I-II-III-IV

I- Saçlarımın rengi siyah ve şekli kıvrıkcıktır

II- Hayvanlarla ilgilenmeyi çok seviyorum

III-Boyum arkadaşlarıma göre çok uzundur.

IV-Okulun voleybol takımında oynuyorum.

**2-Buna göre numaralı cümlelerden hangileri fiziksel özellik ile ilgili değildir?**

- A) I ve IV
- B) II ve III
- C) II ve IV
- D) I ve III

**3) ( Kırkpınar – Edirne - Altınkemer – Başpehlivan )**

Yukarıda verilen kelimeler hangi ata sporu ile yakından ilişkilidir?

- A)Okçuluk
- B) Binicilik
- C)Güreş
- D) Cirit

**4) Osmanlı Devleti 1.Dünya Savaşında aşağıda verilen ülkelerden hangisi ile savaşmamıştır?**

- A) İngiltere
- B) Rusya
- C) Fransa
- D) Almanya

**5)**

**Yağmur:** Kuzey, ana yönlerimizden biridir.

**Efe** : Güneydoğu, güney ile batı arasındadır.

**Arda** : Dört tane ana yön vardır.

**Özlem** : Yön, bir yerin başka bir yere göre konumudur.

**Yukarıdaki çocuklardan hangileri doğru bilgi vermiştir?**

- A) Efe
- B) Efe ve Yağmur
- C) Özlem, Arda ve Yağmur
- D) Özlem ve Efe

**6)**

**Ayhan:** Bu yıl okul gezisinde İstanbul'un tarihi yerlerini gezmeye gideceğiz.

**Aşağıdakilerden hangisi Ayhan'ın okul gezisinde göreceği beşeri unsurlardan biri değildir?**

- A) Rumeli Hisarı
- B)Belgrad Ormanı
- C) Kız Kulesi
- D)Sultanahmet Camii

7) “ Doğal afetlerin verebileceği zararları en aza indirmek için değişik önlemler alınabilir”.  
**Aşağıdakilerden hangisi bu önlemlerden değildi?**

- A)Heyelana karşı yamaçlar ağaçlandırılmalıdır.  
B)Sele karşı dere yataklarına ev yapılmamalıdır.  
C)Doğal afetlere karşı insanlar bilinçlendirilmelidir.  
D)Depreme karşı binalar çok katlı yapılmalıdır.

8)

**Ayhan** :İşlerimizin daha uzun sürmesi

**Hakan** : Yüksek binalar yapılması

**Uğur** : Üretim miktarının artması

**Eyüp** : Ulaşımın kolay hale gelmesi

**Yukarıdaki öğrencilerden hangisinin verdiği bilgi teknolojik ürünlerin hayatımızda ve çevremizde yaptığı etkilere örnek olamaz?**

- A)Ayhan B) Hakan C) Uğur D) Eyüp

9)“Günümüzde teknolojinin ilerlemesi ile bazı meslekler orta çıkmıştır.”

**Buna göre aşağıdaki meslek gruplarından hangisi gelişen teknoloji sonucu ortaya çıkmıştır?**

- A)Balıkçı  
B) Bilgisayar Mühendisi  
C) Çiftçi  
D) Ressam

10)


- \* Spor Yapmak
- \* Beslenmek
- \* Barınma
- \* Gezmek

**Yukarıda verilenlerden hangileri temel ihtiyaçlardandır?**

- A) Spor yapmak ve barınmak  
B) Beslenmek ve gezmek  
C) Spor yapmak ve gezmek  
D) Beslenmek ve barınmak

1) Resimdeki hareket hangi şıkta doğru verilmiştir?

- a) Give me the ruler.
- b) Stand up.
- c) Come in.
- d) Say that again.



2) Where is he from?

- a) He is from Italy.
- b) He is from France.
- c) He is from Turkey.
- d) He is from Germany.



3) Boşluğu resme göre tamamlayınız.

He likes \_\_\_\_\_ .

- a) playing with marbles
- b) playing chess
- c) playing football
- d) playing table tennis



4) Boşluğu resme göre tamamlayınız.

She can \_\_\_\_\_ .

- a) play the piano
- b) play the flute
- c) play the guitar
- d) play the violin



5) Soruyu resme göre cevaplayınız.

Where is the pencil?

- a) It is under the chair.
- b) It is on the table.
- c) It is behind the table.
- d) It is in the pencil case.



6) Resme göre soruyu cevaplayınız.

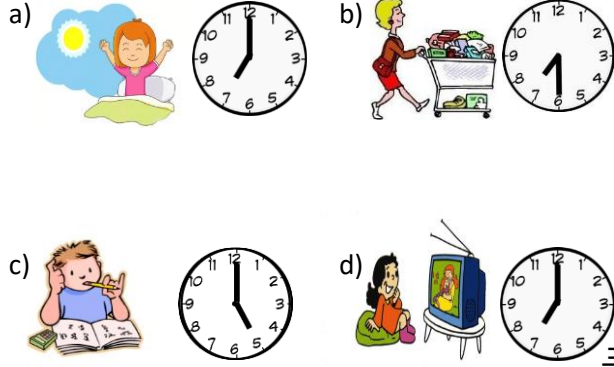
"Where does he work?"

- a) He works at a police station.
- b) He works at a hospital.
- c) He works at a school
- d) He works at a restaurant.



7) "I get up at seven o'clock."

Yukarıda verilen cümledeki eylemi ve eylemin saatini doğru olarak veren şıkkı işaretleyiniz.







8) She is a dancer. What does she like?

- a) She likes milking the cows.
- b) She likes dancing.
- c) She likes flying planes.
- d) She likes serving food.



9. ve 10. Soruları tabloya göre cevaplayınız.

JOHN'S LIKES AND DISLIKES	
Riding a bike	
Flying a kite	
Playing chess	
Watching cartoons	

9) John \_\_\_\_\_.  
Cümleyi tamamlayan doğru seçeneği işaretleyiniz.

- a) dislikes riding a bike
- b) likes flying a kite
- c) likes playing chess
- d) likes watching cartoons

10) Tabloya göre aşağıdaki cümlelerden hangisi doğrudur?

- a) John likes flying a kite.
- b) John dislikes playing chess.
- c) John dislikes riding a bike.
- d) John likes riding a bike.





## PROJE OKUL NEDİR?

Milli Eğitim Bakanlığı tarafından 2014-2015 öğretim yılından itibaren Türkiye genelinde alt yapısı hazır olan bazı okullar proje okulu kapsamına alındı.

Okulumuzun da dahil olduğu, Türkiye’de 17 okulda başlatılan proje okulları, eğitimde kaliteyi ve başarıyı üst sıralara taşımayı hedeflemektedir.

Proje okullarının avantajı yöneticilerini ve öğretmenlerini il Geneline alanında uzman ve mesleğinde başarılı olanlar arasından seçilmesi, ideal sayıda başarılı öğrencilerin yetiştirilmesi ve bir arada eğitim-öğretim görme imkanının olmasıdır.

Bu okullarda ülkemizin yarınları için ihtiyaç olan öncü ve önder nesilleri yetiştirmek hedeflenmiştir.

## SINAV YÖNERGESİ

1. Sınav süresi 120 dakikadır.
2. Sınav toplam 85 sorudan oluşmakta olup; Türkçe 15, Matematik 15, Fen ve Teknoloji 15, Sosyal Bilgiler 10 Din Kültürü ve Ahlak Bilgisi 20 ve İngilizce 10 Sorudan İbaredir.
3. Bütün sorular 4 şıklı çoktan seçmeli sorulardan oluşmaktadır.
4. Her sorunun bir doğru cevabı vardır.
5. Yanlış yapılan sorular doğru cevapları etkilememektedir. Tüm soruları cevaplamanız lehinize olacaktır.
6. İlk 30 dakika ve son 15 dakika sınav salonundan öğrencilerin çıkması yasaktır.
7. İlk 30 dakikadan sonra geç kalan öğrenciler sınava alınmayacaklardır.
8. Sınav bitiminden 1 saat sonra isteyen öğrencilere kitapçıkları dağıtılacaktır.
9. Optik cevap formuna cevaplarınızı yumuşak kalemle işaretletiniz.
10. Optik cevap formuna adınızı ve soyadınızı yazmayı unutmayınız.